

## ΠΑΡΑΡΤΗΜΑ Ι

## ΦΥΛΛΟ 1

Δασική Υπηρεσία ..... Ημερομηνία ..... 201....

Επώνυμο ..... Όνομα .....

Ον. Πατρός ..... Α.Δ.Τ. ....


## Αναγνωρίστε τα παρακάτω είδη:

1.



- α) Σιταρήθρα (*Alauda arvensis*)  
 β) Καλημάνα (*Vanellus vanellus*)  
 γ) Ορτυκομάνα (*Crex crex*)

2.



- α) Κοκκινότσιγλα (*Turdus iliacus*)  
 β) Τσίγλα (κοινή) (*Turdus philomelos*)  
 γ) Δενδρότσιγλα (*Turdus viscivorus*)

3.



- α) Φασοπερίστερο (*Columba oenas*)  
 β) Φάσα (*Columba palumbus*)  
 γ) Αγριοπερίστερο (*Columba livia*)

4.



- α) Φλυαρόπαπια ή Καπακλής (*Anas strepera*)  
 β) Κιρκίρι (*Anas crecca*)  
 γ) Σφυριχτάρι (*Anas penelope*)

5. Ποιο από τα παρακάτω είδη είναι θηρεύσιμο;



Α)



Β)



Γ)

Απάντηση: Εικόνα .....

6. Σε ποιο από τα παρακάτω είδη δεν επιτρέπεται το κυνήγι;



A)



B)



Γ)

Απάντηση: Εικόνα .....

7. Ποια από τις παρακάτω προτάσεις είναι λάθος;

- α) Η Νανόχηνα είναι μεγαλύτερη σε μέγεθος από ότι η Ασπρομετωπόχηνα, έχει μικρή λευκή περιοχή στο μέτωπο που δεν εκτείνεται μέχρι την κορυφή της κεφαλής, ανοιχτόχρωμο σφηνοειδές σχήμα κεφαλιού και λεπτό λαιμό
- β) Η Ασπρομετωπόχηνα είναι συνήθως μεγαλύτερη σε μέγεθος από ότι η Νανόχηνα, έχει μικρή λευκή περιοχή στο μέτωπο που δεν εκτείνεται μέχρι την κορυφή της κεφαλής και σφηνοειδές σχήμα κεφαλιού
- γ) Η Νανόχηνα είναι μικρότερη σε μέγεθος από την Ασπρομετωπόχηνα, έχει ένα κίτρινο δαχτυλίδι γύρω από το μάτι, έχει χοντρό, ενιαίο λαιμό, σκούρο τετραγωνισμένο κεφάλι, κοντό ράμφος και η λευκή περιοχή στο μέτωπο εκτείνεται περισσότερο προς τα επάνω από ότι στην Ασπρομετωπόχηνα

8. Ποια από τις παρακάτω προτάσεις είναι λάθος;

- α) Η αρκούδα είναι είδος παμφάγο, μονογαμικό και προστατευόμενο.
- β) Η αρκούδα ζει σε μεγάλα και πυκνά δάση πλατυφύλλων ειδών, είναι είδος σαρκοφάγο και θηρεύεται.
- γ) Η αρκούδα γεννάει 2-4 μικρά, τα οποία φροντίζει μέχρι την ηλικία των 18-24 μηνών και επιτίθεται όταν νιώθει να απειλείται αυτή και τα μικρά της
- δ) Όταν οι χειμώνες είναι θερμοί, η αρκούδα δεν πέφτει σε χειμέρια νάρκη

9. Ποια πρόταση είναι λάθος: Ο κυνηγός οφείλει ...

- α) Να σέβεται όλα τα όργανα ελέγχου (δασικούς υπάλληλους, θηροφύλακες, αστυνομικούς κ.λπ.) που εποπτεύουν τους χώρους του κυνηγιού
- β) Να πυροβολεί τα θηράματα όταν είναι ιδιαίτερα ευάλωτα
- γ) Να σέβεται το μόχθο του αγρότη, τη σοδειά του, την κινητή και ακίνητη περιουσία του
- δ) Να μην πυροβολεί σε νεαρά θηράματα και να αποφεύγει κατά κανόνα τα θηλυκά, γιατί αυτά διαιωνίζουν το είδος τους

10. Πότε επιτρέπεται το κυνήγι με παρακολούθηση ιχνών πάνω στο χιόνι;

- α) Για κυνήγι λαγού
- β) Για κυνήγι αγριόχοιρου
- γ) Απαγορεύεται

**11. Επιτρέπεται η θήρα των πουλιών της φωτογραφίας;**

- α) Ναι  
 β) Όχι

**12. Πότε επιτρέπεται το κυνήγι με σκύλο δίωξης;**

- α) Από 15 Σεπτεμβρίου μέχρι τέλους της κυνηγετικής περιόδου  
 β) Από 20 Αυγούστου μέχρι 31 Δεκεμβρίου  
 γ) Όταν και όπου επιτρέπεται το κυνήγι του λαγού και του αγριογούρουνου

**13. Κατά την διάρκεια της ημέρας, πότε επιτρέπεται να αρχίζει και να τελειώνει το κυνήγι;**

- α) Όλη την ημέρα, εφόσον διακρίνεται το θήραμα  
 β) Μισή ώρα πριν την Ανατολή και μισή ώρα μετά τη Δύση του ήλιου  
 γ) Μια ώρα πριν την Ανατολή και μία ώρα μετά τη Δύση του ήλιου

**14. Η αγοροπωλησία νεκρών πτερωτών θηραμάτων:**

- α) Επιτρέπεται ελεύθερα  
 β) Δεν επιτρέπεται καθόλου  
 γ) Επιτρέπεται για όσα θηράματα έχουν θηρευτεί στο εξωτερικό, στις Ελεγχόμενες Κυνηγετικές Περιοχές ή προέρχονται από εκτροφεία

**15. Τα θηρεύσιμα είδη, ο μέγιστος επιτρεπόμενος αριθμός κάρπωσης ανά κυνηγό και ανά ημερήσια έξοδο, καθώς και οι μέρες της εβδομάδας εντός της κυνηγετικής περιόδου κατά τις οποίες επιτρέπεται το κυνήγι τους...**

- α) Είναι κάθε χρόνο ίδια  
 β) Καθορίζονται κάθε χρόνο από τη ρυθμιστική απόφαση κυνηγιού που εκδίδεται από το αρμόδιο Υπουργείο  
 γ) Καθορίζονται κάθε χρόνο από το Δελτίο Τύπου κυνηγιού που εκδίδεται από την Κυνηγετική Συνομοσπονδία Ελλάδος

**16. Μέχρι ποια απόσταση από τη χερσαία μεθωριακή γραμμή επιτρέπεται το κυνήγι;**

- α) Σε απόσταση 200 μέτρων  
 β) Δεν υπάρχει όριο απόστασης  
 γ) Σε απόσταση 500 μέτρων

**17. Πότε επιτρέπεται το κυνήγι μέσα σε Καταφύγια Άγριας Ζωής (ΚΑΖ);**

- α) Με ειδική άδεια της αρμόδιας Αρχής  
 β) Απαγορεύεται τελείως  
 γ) Εκτός εποχής αναπαραγωγής

**18. Που επιτρέπεται να κυνηγάμε με τοπική άδεια;**

- α) Στο νομό, για τον οποίο αιτούμαστε να εκδοθεί η άδεια θήρας  
 β) Στο νομό, στον οποίο κατατέθηκε η αίτηση για έκδοση άδειας θήρας  
 γ) Σε οποιονδήποτε νομό

**19. Οι κυνηγοί της διπλανής εικόνας γεμίζουν τα τουφέκια τους για να συνκυνηγήσουν. Το πράττουν με ασφάλεια;**



- α) Ναι  
 β) Όχι

**20. Πότε επιτρέπεται το κυνήγι με όπλο που έχει ραβδωτή κάνη στην Ελλάδα;**

- α) Από 16 Σεπτεμβρίου μέχρι τέλους της Κυνηγετικής Περιόδου  
 β) Απαγορεύεται  
 γ) Από 20 Αυγούστου μέχρι 15 Σεπτεμβρίου

Ορθές απαντήσεις  από τα 20 ερωτήματα του παρόντος φύλλου.

Η Επιτροπή

1..... 2..... 3.....

## ΦΥΛΛΟ 2

Δασική Υπηρεσία ..... Ημερομηνία ..... 201....

Επώνυμο ..... Όνομα .....

Ον. Πατρός ..... Α.Δ.Τ. ....

**Αναγνωρίστε τα παρακάτω είδη:**

1.



- α) Πεδινή Πέρδικα (*Perdix perdix*)
- β) Δασόκοτα (*Tetrastes bonasia*)
- γ) Ορτύκι (*Coturnix coturnix*)

2.



- α) Φλώρος (*Carduelis chloris*)
- β) Λευκοσουσουράδα (*Motacilla alba*)
- γ) Μελισσοφάγος (*Merops apiaster*)

3.




- α) Ασπρομετωπόχηνα (*Anser albifrons*)
- β) Νανόχηνα (*Anser erythropus*)
- γ) Σταχτόχηνα (*Anser anser*)

4.



- α) Τσίχλα (κοινή) (*Turdus philomelos*)
- β) Κοκκινότσιχλα (*Turdus iliacus*)
- γ) Γερακότσιχλα (*Turdus pilaris*)

5. Ποιο από τα παρακάτω είδη δεν είναι θηρεύσιμο;



**Απάντηση:** Εικόνα .....

6. Ποια από τις παρακάτω πάπιες είναι θηρεύσιμο είδος;



A)



B)



Γ)

Απάντηση: Εικόνα .....

7. Ποιο από τα παρακάτω είδη είναι θηρεύσιμο;

- α) Το Πετροκούναβο (*Martes foina*)
- β) Το Βρωμοκούναβο (*Mustela putorius*)
- γ) Το Κουνάβι (*Martes martes*)

8. Ποιο από τα παρακάτω πουλιά δεν ανήκει στην οικογένεια των παπιών;

- α) Το Σφυριχτάρι (*Anas penelope*)
- β) Η Φαλαρίδα (*Fulica atra*)
- γ) Η Βαρβάρα (*Tadorna tadorna*)


9. Πού κατασκευάζει τη φωλιά της η πεδινή πέρδικα;

- α) Στα δέντρα
- β) Στις κορυφές των θάμνων
- γ) Στο έδαφος

10. Ποιο από τα παρακάτω είδη δεν είναι μεταναστευτικό;



A)



B)



Γ)

Απάντηση: Εικόνα .....

**11. Κατά την παράνομη θήρα με μηχανοκίνητο μέσο, πότε αυτό κατάσχεται;**

- α) Αν έχει σκοτωθεί θήραμα
- β) Κατάσχεται σε κάθε περίπτωση
- γ) Κατάσχεται αν ανήκει στο λαθροκυνηγό

**12. Πού έχει ισχύ η περιφερειακή άδεια κυνηγίου;**

- α) Για ολόκληρη την επικράτεια
- β) Για μία από τις δεκατρείς (13) Διοικητικές Περιφέρειες
- γ) Για μια από τις επτά (7) Κυνηγετικές Περιφέρειες

**13. Σε ποια ακτίνα γύρω από τις μεμονωμένες αγροικίες απαγορεύεται το κυνήγι των πουλιών;**

- α) Σε ακτίνα 150 μέτρων
- β) Σε ακτίνα 100 μέτρων
- γ) Σε ακτίνα 250 μέτρων

**14. Από που δίνεται η τελική έγκριση για την έκδοση άδειας θήρας;**

- α) Από τον κυνηγετικό σύλλογο
- β) Από το αστυνομικό τμήμα της μονίμου κατοικίας του ενδιαφερομένου
- γ) Από τη δασική υπηρεσία της μονίμου κατοικίας του ενδιαφερομένου

**15. Πότε επιτρέπεται να κυνηγάμε χρησιμοποιώντας ομοιώματα πάπιας;**

- α) Δεν επιτρέπεται
- β) Επιτρέπεται μόνο στις λίμνες
- γ) Επιτρέπεται μόνο υπό προϋποθέσεις

**16. Που πρέπει να είναι στραμμένη η κάνη του όπλου, όταν ο κυνηγός βαδίζει μόνος στον κυνηγότοπο;**



- α) Προς τον ουρανό ή προς τη γη
- β) Προς τη γη
- γ) Είναι αδιάφορο

**17. Με το ίδιο όπλο, πότε τα σκάγια έχουν μεγαλύτερη διασπορά;**



- α) Ανάλογα με την πυρίτιδα και ανεξαρτήτως μεγέθους
- β) Εάν είναι χοντρά
- γ) Εάν είναι ψιλά

**18. Το κυνήγι στην Ελλάδα επιτρέπεται:**

- α) Με σύνηθες κυνηγετικό επωμιζόμενο πυροβόλο ραβδωτό όπλο με ή χωρίς σκύλο.
- β) Με σύνηθες κυνηγετικό επωμιζόμενο πυροβόλο λειόκανο όπλο, με ή χωρίς σκύλο.
- γ) Με σύνηθες κυνηγετικό επωμιζόμενο αεροβόλο όπλο, ως και με τόξο και με κυνηγετικό μαχαίρι, με ή χωρίς σκύλο.

**19. Εάν σκοτώσετε ή βρείτε νεκρό ένα πουλί δακτυλιωμένο, τι οφείλτε να κάνετε;**



- α) Να κρατήσετε το δακτυλίδι
- β) Να μην κάνετε τίποτα
- γ) Να παραδώσετε το δακτυλίδι στον κυνηγετικό σύλλογο ή τη δασική αρχή

**20. Το κυνήγι απαγορεύεται χωρίς τη συγκατάθεση του ιδιοκτήτη, νομέα ή ενοικιαστή σε ιδιόκτητες εκτάσεις που είναι περιφραγμένες με συνεχή και αδιαπέραστο φράχτη ύψους τουλάχιστον:**

- α) 1 μέτρο.
- β) 1,5 μέτρα
- γ) 2 μέτρα

Ορθές απαντήσεις  από τα 20 ερωτήματα του παρόντος φύλλου.

Η Επιτροπή

1..... 2..... 3.....



## ΦΥΛΛΟ 3

Δασική Υπηρεσία ..... Ημερομηνία ..... 201....

Επώνυμο ..... Όνομα .....

Ον. Πατρός ..... Α.Δ.Τ. ....

**Ποιο είδος εικονίζεται στις παρακάτω φωτογραφίες;**

1.



- α) Κυνηγόπαπια ή Γκισάρι (*Aythya ferina*)
- β) Σφυριχτάρι (*Anas penelope*)
- γ) Τσικνόπαπια ή Μαυροκέφαλη (*Aythya fuligula*)

2.



- α) Γερακότσιχλα (*Turdus pilaris*)
- β) Ψαρόνι (*Sturnus vulgaris*)
- γ) Τρυγόνι (*Sterptopelia turtur*)

3.



- α) Λευκός Πελαργός (*Ciconia ciconia*)
- β) Αργυροπελεκάνος (*Pelecanus crispus*)
- γ) Χουλιαρομούτα (*Platalea leucorodia*)

4.



- α) Πεδινή πέρδικα (*Perdix perdix*)
- β) Πετροπέρδικα (*Alectoris graeca*)
- γ) Νησιώτικη πέρδικα (*Alectoris chucar*)

5. Ποιο από τα παρακάτω είδη δεν ανήκει στα κορακοειδή;

- α) Κάργια (*Corvus monedula*)
- β) Κουρούνα (*Corvus corone*)
- γ) Κίσσα (*Garrulus glandarius*)
- α) Κότσουφας (*Turdus merula*)
- β) Καρακάξα (*Pica pica*)

**6. Ποιο από τα παρακάτω είδη είναι αρπακτικό;**



**Απάντηση:** Εικόνα .....

**7. Ποια από τα παρακάτω είδη είναι θηρεύσιμα;**



- α) Όλα  
 β) Κανένα  
 γ) Το Α, το Β, και το Γ  
 δ) Μόνο το Δ

**8. Ποιο από τα παρακάτω είδη είναι θηρεύσιμο;**

- α) Η Νυφίτσα (*Mustela nivalis*)  
 β) Το Κουνάβι (*Martes martes*)  
 γ) Το Πετροκούναβο (*Martes foina*)  
 δ) Το Βρωμοκούναβο (*Mustela putorius*)

**9. Που επιτρέπεται το κυνήγι του Αγριοπροβάτου ή Μουφλόν;**

- α) Απαγορεύεται αυστηρώς  
 β) Μόνο στις Ελεγχόμενες Κυνηγετικές Περιοχές με ειδική άδεια  
 γ) Όπως καθορίζει η ρυθμιστική απόφαση

10. Ποιο από τα παρακάτω είδη είναι θηρεύσιμο;



A)



B)



Γ)

Απάντηση: Εικόνα .....

11. Πόσα παρυδάτια είδη επιτρέπεται να θηρεύονται στην Ελλάδα;

- α) Δύο (2)  
 β) Τρία (3)  
 γ) Πέντε (5)

12. Σε περίπτωση λαθροθηρίας με χρήση μεταφορικού μέσου (αυτοκίνητο, πλωτό, κ.λ.π.) οι οδηγοί ή χειριστές αυτών:


- α) Θεωρούνται συνυπεύθυνοι  
 β) Δεν έχουν καμία ευθύνη  
 γ) Εξαρτάται από την περίπτωση

13. Όταν περνάτε μέσα από τα καταφύγια άγριας ζωής πώς πρέπει να μεταφέρετε το όπλο σας;

- α) Άδειο  
 β) Γεμάτο κι ασφαλισμένο  
 γ) Εντός θήκης και κενό φυσιγγίων

14. Το κυνήγι των τριχωτών απαγορεύεται μέσα σε πόλεις, κωμοπόλεις, χωριά ή συνοικισμούς, καθώς και σε ακτίνα...;

- α) 250 μ. από την παρυφή αυτών ή σε ακτίνα 100 μ. από μεμονωμένες κατοικίες.  
 β) 100 μ. από την παρυφή αυτών και σε ακτίνα 50 μ. από μεμονωμένες κατοικίες.  
 γ) 100 μ. από την παρυφή αυτών και σε ακτίνα 250 μ. από μεμονωμένες κατοικίες.

<p><b>15. Πώς αποδεικνύεται η νόμιμη κατοχή ενός κυνηγετικού όπλου;</b></p> <p><input type="checkbox"/> α) Με τιμολόγιο αγοράς</p> <p><input type="checkbox"/> β) Με υπεύθυνη δήλωση του πωλητή</p> <p><input type="checkbox"/> γ) Με άδεια κατοχής κυνηγετικού όπλου σε ισχύ</p>	
<p><b>16. Πότε επιτρέπεται η εκγύμναση σκύλων;</b></p> <p><input type="checkbox"/> α) Την κυνηγετική περίοδο</p> <p><input type="checkbox"/> β) Όλο το χρόνο</p> <p><input type="checkbox"/> γ) Εκτός κυνηγετικής περιόδου</p> <p><input type="checkbox"/> δ) Ποτέ</p>	
<p><b>17. Το κυνήγι στους υγροβιότοπους από πλωτά μέσα χωρίς μηχανή..</b></p> <p><input type="checkbox"/> α) Απαγορεύεται</p> <p><input type="checkbox"/> β) Επιτρέπεται</p> <p><input type="checkbox"/> γ) Ανάλογα με την περίπτωση</p>	
<p><b>18. Τι κάνει λάθος ο κυνηγός;</b></p> <p><input type="checkbox"/> α) Σκοπεύει πολύ χαμηλά</p> <p><input type="checkbox"/> β) Κυνηγάει με όπλο που φέρει διόπτρα</p> <p><input type="checkbox"/> γ) Κρατάει με λάθος τρόπο το όπλο</p>	
<p><b>19. Το κυνήγι απαγορεύεται χωρίς τη συγκατάθεση του ιδιοκτήτη, νομέα ή ενοικιαστή σε καλλιεργημένες εκτάσεις και οπωρώνες:</b></p> <p><input type="checkbox"/> α) Απαγορεύεται πάντοτε</p> <p><input type="checkbox"/> β) Επιτρέπεται πάντοτε</p> <p><input type="checkbox"/> γ) Απαγορεύεται όταν η άσκησή του μπορεί να προκαλέσει βλάβη στην καλλιέργεια</p>	
<p><b>20. Που επιτρέπεται να κυνηγάμε με τοπική άδεια;</b></p> <p><input type="checkbox"/> α) Στο νομό, στον οποίο κατατέθηκε η αίτηση για έκδοση άδειας θήρας</p> <p><input type="checkbox"/> β) Στο νομό, για τον οποίο αιτούμαστε να εκδοθεί η άδεια θήρας</p> <p><input type="checkbox"/> γ) Σε οποιονδήποτε νομό</p>	

Ορθές απαντήσεις  από τα 20 ερωτήματα του παρόντος φύλλου.

Η Επιτροπή

1..... 2..... 3.....

## ΦΥΛΛΟ 4

Δασική Υπηρεσία ..... Ημερομηνία ..... 201....

Επώνυμο ..... Όνομα .....

Ον. Πατρός ..... Α.Δ.Τ. ....

**Ποιο είδος απεικονίζεται στις παρακάτω φωτογραφίες;**

1.



- α) Δεκαοχτούρα (*Streptopelia decaocto*)
- β) Αγριοπερίστερο (*Columba livia*)
- γ) Τρυγόνι (*Streptopelia turtur*)

2.



- α) Νυχτοκόρακας (*Nycticorax nycticorax*)
- β) Θαλασσοκόρακας (*Phalacrocorax aristotelis*)
- γ) Κρυπτοτσικνιάς (*Ardeola ralloides*)

3.



- α) Μπεκατσίνι (*Gallinago gallinago*)
- β) Μπεκάτσα (*Scolopax rusticola*)
- γ) Λιμόζα (*Limosa limosa*)

4.



- α) Νησιώτικη πέρδικα (*Alectoris chukar*)
- β) Πετροπέρδικα (*Alectoris graeca*)
- γ) Πεδινή πέρδικα (*Perdix perdix*)

5. Ποιο από τα παρακάτω είδη δεν είναι αρπακτικό;



Απάντηση: Εικόνα .....

6. Ποια από τις παρακάτω ομάδες πουλιών δεν είναι θηρεύσιμη;



α) Τα Β και Δ

β) Τα Α και Γ

γ) Τα Ε και ΣΤ

7. Ποιο από τα παρακάτω είδη δεν είναι θηρεύσιμο;



Απάντηση: Εικόνα .....

8. Πόσες πάπιες, χήνες και φαλαρίδες επιτρέπεται να θηρεύσει ένας κυνηγός σε μια του κυνηγετική εξόρμηση;

α) Μέχρι δώδεκα (12) από κάθε είδος

β) Μέχρι δώδεκα (12) συνολικά απ' όλα τα είδη

γ) Χωρίς περιορισμό

<p><b>9. Πότε επιτρέπεται το κυνήγι του Συκοφάγου;</b></p> <p><input type="checkbox"/> α) Επιτρέπεται μόνο στις ζώνες διάβασης</p> <p><input type="checkbox"/> β) Απαγορεύεται</p> <p><input type="checkbox"/> γ) Από 15 Σεπτεμβρίου μέχρι τέλους της κυνηγετικής περιόδου</p>
<p><b>10. Πότε επιτρέπεται το κυνήγι του Ακανθόχοιρου (Σκαντζόχοιρου);</b></p> <p><input type="checkbox"/> α) Απαγορεύεται το κυνήγι του</p> <p><input type="checkbox"/> β) Οι ημερομηνίες ορίζονται από την ετήσια Υπουργική Απόφαση</p> <p><input type="checkbox"/> γ) Όλο το χρόνο, επειδή θεωρείται επιβλαβής</p>
<p><b>11. Πότε επιτρέπεται η χρήση ειδικής σφυρίχτρας για να προσελκύσουμε τα πουλιά;</b></p> <p><input type="checkbox"/> α) Απαγορεύεται</p> <p><input type="checkbox"/> β) Όταν κυνηγάμε υδρόβια</p> <p><input type="checkbox"/> γ) Όταν κυνηγάμε τσίχλες και κοτσύφια</p>
<p><b>12. Σε πόσο χρόνο είναι δυνατόν να χορηγηθεί άδεια κυνηγίου μετά από καταδίκη για παράνομο κυνήγι;</b></p> <p><input type="checkbox"/> α) Μετά από 2 χρόνια</p> <p><input type="checkbox"/> β) Μετά από 2 χρόνια όταν το αδίκημα είναι πταίσμα και μετά από 5 χρόνια όταν είναι πλημμέλημα</p> <p><input type="checkbox"/> γ) Μετά από 5 χρόνια</p>
<p><b>13. Η εκγύμναση σκύλων επιτρέπεται:</b></p> <p><input type="checkbox"/> α) Σε χωράφια</p> <p><input type="checkbox"/> β) Σε δασικές περιοχές</p> <p><input type="checkbox"/> γ) Σε εκτάσεις που έχουν καθορισθεί από την οικεία δασική αρχή ως ζώνες εκγύμνασης κυνηγετικών σκύλων</p>
<p><b>14. Πότε επιτρέπεται το όπλο μας να φέρει διόπτρα;</b></p> <p><input type="checkbox"/> α) Για το κυνήγι θηλαστικών</p> <p><input type="checkbox"/> β) Απαγορεύεται</p> <p><input type="checkbox"/> γ) Για το κυνήγι υδροβίων</p>
<p><b>15. Μέχρι πόσα φυσίγγια επιτρέπεται να φέρει συνολικά μια κυνηγετική καρμπίνα (ημιαυτόματο ή επαναληπτικό κυνηγετικό όπλο):</b></p> <p><input type="checkbox"/> α) Μέχρι τρία</p> <p><input type="checkbox"/> β) Μέχρι πέντε</p> <p><input type="checkbox"/> γ) Μέχρι επτά</p>

**16. Σημειώστε το λάθος:**

Εντός των Καταφυγίων Άγριας Ζωής (ΚΑΖ)

- α) Απαγορεύεται η θήρα κάθε θηράματος και κάθε είδους άγριας πανίδας
- β) Απαγορεύεται η σύλληψη κάθε είδους της άγριας πανίδας για μη ερευνητικούς σκοπούς
- γ) Επιτρέπεται η καταστροφή κάθε είδους ζώνης με φυσική βλάστηση ή καταστροφή των ζωντανών φυτοφρακτών

**17. Επιτρέπεται το κυνήγι των πουλιών της φωτογραφίας;**

- α) Ναι
- β) Όχι

**18. Που πρέπει να είναι στραμμένη η κάνη του όπλου μας όταν βαδίζουμε στον κυνηγότοπο;**

- α) Προς τον ουρανό ή προς τη γη
- β) Προς τη γη
- γ) Είναι αδιάφορο

**19. Πού έχει ισχύ η περιφερειακή άδεια κυνηγίου;**

- α) Για ολόκληρη την επικράτεια
- β) Για μία από τις (13) δεκατρείς Διοικητικές Περιφέρειες
- γ) Για μια από τις (7) επτά Κυνηγετικές Περιφέρειες

**20. Πότε επιτρέπεται το κυνήγι του σκίουρου;**

- α) Απαγορεύεται
- β) Το διάστημα που επιτρέπεται και του λαγού
- γ) Όλο το χρόνο

Ορθές απαντήσεις  από τα 20 ερωτήματα του παρόντος φύλλου.

Η Επιτροπή

1..... 2..... 3.....



## ΦΥΛΛΟ 5

Δασική Υπηρεσία ..... Ημερομηνία ..... 201....

Επώνυμο ..... Όνομα .....

Ον. Πατρός ..... Α.Δ.Τ. ....

**Ποιο είδος απεικονίζεται στις παρακάτω φωτογραφίες;**

1.



- α) Φλυαρόπαπια ή Καπακλής (*Anas strepera*)  
 β) Σφυριχτάρι (*Anas penelope*)  
 γ) Σαρσέλα (*Anas querquedula*)

2.



- α) Κατσουλιέρης (*Galerida cristata*)  
 β) Σιταρήθρα (*Alauda arvensis*)  
 γ) Γαλιάντρα (*Melanocorypha calandra*)

3.



- α) Τσικνόπαπια ή Μαυροκέφαλη (*Aythya fuligula*)  
 β) Φαλαρίδα (*Fulica atra*)  
 γ) Νερόκοτα (*Gallinula chloropus*)

4.



- α) Κότσυφας (*Turdus merula*)  
 β) Κόρακας (*Corvus corax*)  
 γ) Ψαρόνι (*Sturnus vulgaris*)

5. Ποιο από τα παρακάτω είδη δεν είναι θηρεύσιμο;



**Απάντηση:** Εικόνα .....

6. Ποιο από τα παρακάτω είδη είναι θηρεύσιμο;



Απάντηση: Εικόνα .....

7. Επιτρέπεται η θήρα των πουλιών αυτού του σμήνους;



α) Ναι

β) Όχι

8. Ποια από τις παρακάτω πάπιες δεν θηρεύεται;

- α) Η Σουβλόπαπια ή Ψαλίδα (*Anas acuta*)
- β) Η Τσικνόπαπια ή Μαυροκέφαλη (*Aythya fuligula*)
- γ) Η Χουλιάρόπαπια (*Anas clypeata*)
- δ) Η Βαλτόπαπια (*Aythya nyroca*)

9. Στην οικογένεια των κυνοειδών δεν ανήκει...

- α) ο Λύκος (*Canis lupus*)
- β) το Τσακάλι (*Canis aureus*)
- γ) η Αλεπού (*Vulpes vulpes*)
- δ) ο Λύγκας (*Lynx lynx*)

**10. Τι κάνουμε όταν βρούμε νεκρό μη θηρεύσιμο πουλί;**

- α) Το αφήνουμε όπου είναι
- β) Το παίρνουμε μαζί
- γ) Το παραδίδουμε στην κοντινότερη δασική αρχή ή ειδοποιούμε αυτή

**11. Επιτρέπεται η εισαγωγή και απελευθέρωση ξενικών ειδών πουλιών;**

- α) Όχι
- β) Μόνο με ειδική άδεια από το ΥΠΕΚΑ
- γ) Μόνο από τους κυνηγετικούς συλλόγους

**12. Η από πρόθεση καταστροφή των φωλιών και αυγών των πουλιών...**

- α) Δεν επιτρέπεται
- β) Επιτρέπεται για όλα τα είδη
- γ) Επιτρέπεται μόνο στα Καταφύγια Άγριας Ζωής (ΚΑΖ)

**13. Πόσες μπεκάτσες επιτρέπεται να θηρεύσει ένας κυνηγός σε μια του κυνηγετική εξόρμηση;**

- α) Μέχρι δώδεκα (12)
- β) Μέχρι δέκα (10)
- γ) Δεν υπάρχει περιορισμός

**14. Οι κυνηγοί της διπλανής εικόνας γεμίζουν τα τουφέκια τους για να συνκυνηγήσουν. Το πράττουν με ασφάλεια;**



- α) Ναι
- β) Όχι

**15. Ποια δικαιολογητικά πρέπει να έχετε μαζί σας όταν πηγαίνετε για κυνήγι;**

- α) Την ταυτότητα ή άδεια οδήγησης
- β) Την άδεια κυνηγιού
- γ) Την άδεια κυνηγιού και την άδεια κατοχής κυνηγετικού όπλου

**16. Πότε επιτρέπεται η εκγύμναση σκύλων;**

- α) Μόνο την κυνηγετική περίοδο όπου επιτρέπεται το κυνήγι
- β) Όλο το χρόνο μόνο στις περιοχές που έχει καθορίσει η δασική αρχή
- γ) Μόνο εκτός κυνηγετικής περιόδου στις ζώνες εκγύμνασης κυνηγετικών σκύλων

**17. Μέχρι πόσα φυσίγγια επιτρέπεται να φέρει συνολικά μια κυνηγετική караμπίνα (ημι-αυτόματο ή επαναληπτικό κυνηγετικό όπλο):**

- α) Μέχρι πέντε
- β) Μέχρι επτά
- γ) Μέχρι τρία

**18. Τι κάνει λάθος ο κυνηγός σ' αυτή την φωτογραφία:**

- α) Σκοπεύει πολύ χαμηλά
- β) Κυνηγεί με όπλο που φέρει διόπτρα
- γ) Κρατάει με λάθος τρόπο το όπλο.

**19. Το κυνήγι των τριχωτών απαγορεύεται μέσα σε πόλεις, κωμοπόλεις, χωριά ή συνοικισμούς, καθώς και σε ακτίνα...**

- α) 250 μ. από την παρυφή αυτών ή σε ακτίνα 100 μ. από μεμονωμένες κατοικίες
- β) 100 μ. από την παρυφή αυτών και σε ακτίνα 50 μ. από μεμονωμένες κατοικίες
- γ) 100 μ. από την παρυφή αυτών και σε ακτίνα 250 μ. από μεμονωμένες κατοικίες

**20. Σε περίπτωση λαθροθηρίας με χρήση μεταφορικού μέσου (αυτοκίνητο, πλωτό, κ.λ.π.) οι οδηγοί ή χειριστές αυτών...**

- α) Θεωρούνται συνυπεύθυνοι
- β) Δεν έχουν καμία ευθύνη
- γ) Εξαρτάται από την περίπτωση

Ορθές απαντήσεις  από τα 20 ερωτήματα του παρόντος φύλλου.

Η Επιτροπή

1..... 2..... 3.....

## ΦΥΛΛΟ 6

Δασική Υπηρεσία ..... Ημερομηνία ..... 201....

Επώνυμο ..... Όνομα .....

Ον. Πατρός ..... Α.Δ.Τ. ....

**Ποιο είδος απεικονίζεται στις παρακάτω φωτογραφίες;**

1.



- α) Σταχτόχηνα (*Anser anser*)
- β) Ασπρομετωπόχηνα (*Anser albifrons*)
- γ) Νανόχηνα (*Anser erythropus*)

2.




- α) Τσικνοπάπια (*Aythya fuligula*)
- β) Καλημάνα (*Vanellus vanellus*)
- γ) Αβοκέτα (*Recurvirostra avosetta*)

3.



- α) Φάσα (*Columba palumbus*)
- β) Φασοπερίστερο (*Columba oenas*)
- γ) Αγριοπερίστερο (*Columba livia*)

4.



- α) Κύκνος (*Cygnus olor*)
- β) Ασπρομετωπόχηνα (*Anser albifrons*)
- γ) Ροδοπελεκάνος (*Pelecanus onocrotalus*)


5. Ποιο από τα παρακάτω είδη είναι θηρεύσιμο;

- α) Ο Λύκος (*Canis lupus*)
- β) Το Τσακάλι (*Canis aureus*)
- γ) Η Αλεπού (*Vulpes vulpes*)
- δ) Ο Λύγκας (*Lynx lynx*)

6. Σε ποια από τις παρακάτω ομάδες επιτρέπεται το κυνήγι;



A)



B)



Γ)



Δ)

 α) Στα Α και Β

 β) Στα Β και Γ

 γ) Στα Γ και Δ

7. Επιτρέπεται η θήρα των πουλιών της φωτογραφίας;


 α) Ναι

 β) Όχι

8. Ποια από τις παρακάτω προτάσεις είναι λάθος;

- α) Η αρκούδα είναι είδος παμφάγο, μονογαμικό, και προστατευόμενο.
- β) Η αρκούδα ζει σε μεγάλα και πυκνά δάση πλατυφύλλων ειδών, είναι είδος σαρκοφάγο και θηρεύεται.
- γ) Η αρκούδα γεννάει 2-4 μικρά, τα οποία φροντίζει μέχρι την ηλικία των 18-24 μηνών και επιτίθεται όταν νιώθει να απειλείται αυτή και τα μικρά της
- δ) Όταν οι χειμώνες είναι θερμοί, η αρκούδα δεν πέφτει σε χειμέρια νάρκη

9. Ποιο από τα παρακάτω είδη είναι θηρεύσιμο;



A)



B)



Γ)

Απάντηση: Εικόνα .....

**10. Ποια από τις παρακάτω πάπιες δεν είναι θηρεύσιμη;**



**Απάντηση:** Εικόνα .....

**11. Πότε επιτρέπεται το όπλο μας να φέρει διόπτρα;**

- α) Για κυνήγι θηλαστικών  
 β) Απαγορεύεται  
 γ) Για κυνήγι υδροβίων

**12. Η αγοραπωλησία κάθε νόμιμα θηρευθέντος πτερωτού θηράματος...**

- α) Απαγορεύεται, εκτός των περιπτώσεων που τα θηράματα θηρεύθηκαν σε νησιωτική περιοχή και έχουν τηρηθεί όλες οι νόμιμες διαδικασίες  
 β) Επιτρέπεται  
 γ) Απαγορεύεται εκτός των περιπτώσεων που τα θηράματα θηρεύθηκαν σε Ελεγχόμενες Κυνηγετικές Περιοχές, προέρχονται από εκτροφεία ή από νόμιμη εισαγωγή.

**13. Όταν περπατάμε κυνηγώντας, πώς πρέπει να κρατάμε το γεμάτο όπλο;**

- α) Με οποιοδήποτε τρόπο εξυπηρετεί για ταχύτερη σκόπευση  
 β) Με την κάνη στραμμένη εμπρός  
 γ) Με την κάνη στραμμένη προς τη γη ή τον ουρανό

**14. Πότε επιτρέπεται η χρησιμοποίηση ζωντανών κραχτών για την προσέλκυση πτερωτών θηραμάτων;**

- α) Για το κυνήγι ωδικών πουλιών  
 β) Απαγορεύεται τελείως  
 γ) Εκτός εποχής αναπαραγωγικής δραστηριότητας των πουλιών

**15. Επιτρέπεται το κυνήγι της Μπεκάτσας στο καρτέρι;**

- α) Μόνο το πρωί και το βράδυ  
 β) Μόνο το πρωί  
 γ) Μόνο το βράδυ  
 δ) Απαγορεύεται

**16. Το κυνηγετικό όπλο πρέπει να φυλάσσεται...**

- α) Πάντα κλειδωμένο, κενό φυσιγγίων, στη μόνιμη κατοικία
- β) Σε οποιοδήποτε ιδιωτικό χώρο και πάντα έτοιμο προς χρήση
- γ) Κλειδωμένο σε οποιοδήποτε ιδιωτικό χώρο και κενό φυσιγγίων

**17. Το κυνήγι με τη χρήση προβολέων ή ελκυστικών φώτων...**

- α) Απαγορεύεται
- β) Επιτρέπεται μόνο για τα τριχωτά
- γ) Επιτρέπεται κατόπιν αδείας

**18. Μέσα σε πόσο χρόνο από την απόκτηση κυνηγετικού όπλου ο κάτοχός του οφείλει να εφοδιάζεται με άδεια κατοχής από την αστυνομική αρχή του τόπου κατοικίας του;**

- α) Τρεις μήνες
- β) Έξι μήνες
- γ) Τριάντα ημέρες

**19. Η εκγύμναση των κυνηγετικών σκύλων επιτρέπεται:**

- α) Μόνο στις περιοχές που επιτρέπεται και το κυνήγι
- β) Παντού
- γ) Μόνο σε συγκεκριμένες περιοχές που καθορίζονται από την οικεία δασική αρχή

**20. Πότε επιτρέπεται η χρήση σφυρίχτρας για να προσελκύσουμε τα πουλιά;**

- α) Όταν κυνηγάμε υδρόβια
- β) Όταν κυνηγάμε τσίχλες και κοτσούφια
- γ) Απαγορεύεται

Ορθές απαντήσεις  από τα 20 ερωτήματα του παρόντος φύλλου.

Η Επιτροπή

1..... 2..... 3.....



## ΦΥΛΛΟ 7

Δασική Υπηρεσία ..... Ημερομηνία ..... 201....

Επώνυμο ..... Όνομα .....

Ον. Πατρός ..... Α.Δ.Τ. ....

**Αναγνωρίστε τα παρακάτω είδη των φωτογραφιών:**

1.



- α) Κουρούνα (*Corvus corone*)
- β) Κίσσα (*Garrulus glandarius*)
- γ) Καρακάξα (*Pica pica*)

2.



- α) Νανόχηνα (*Anser erythropus*)
- β) Ασπρομετωπόχηνα (*Anser albifrons*)
- γ) Σουβλόπαπια (*Anas acuta*)

3.



- α) Αγριόκουρκος (*Tetrao urogallus*)
- β) Φασιανός (*Phasianus colchicus*)
- γ) Λυροπετεινός (*Tetrao tetrix*)

4.



- α) Χουλιάρόπαπια (*Anas clypeata*)
- β) Χουλιανομούτα (*Platalea leucorodia*)
- γ) Χαλκόκοτα (*Plegalis falcinellus*)

**5. Τα αρπακτικά πουλιά θεωρούνται:**

- α) Εξυγιαντές και ελεγκτές πληθυσμών
- β) Επιζήμια στην κτηνοτροφία
- γ) Θηρεύσιμα είδη κατά περίπτωση

**6. Επιτρέπεται το κυνήγι των παρακάτω ειδών έξω από τις Ελεγχόμενες Κυνηγετικές Περιοχές;**



A)



B)



Γ)

- α) Επιτρέπεται  
 β) Απαγορεύεται  
 γ) Επιτρέπεται μόνο στη Β. Ελλάδα

**7. Σε ποιο από τα παρακάτω είδη δεν επιτρέπεται το κυνήγι;**



A)



B)



Γ)



Δ)

**Απάντηση:** Εικόνα .....

**8. Ποια από τις παρακάτω προτάσεις είναι λάθος;**

- α) Η Νανόχηνα είναι μεγαλύτερη σε μέγεθος από ότι η Ασπρομετωπόχηνα, έχει μικρή λευκή περιοχή στο μέτωπο που δεν εκτείνεται μέχρι την κορυφή της κεφαλής, ανοιχτόχρωμο σφηνοειδές σχήμα κεφαλιού και λεπτό λαιμό
- β) Η Ασπρομετωπόχηνα είναι συνήθως μεγαλύτερη σε μέγεθος από ότι η Νανόχηνα, έχει μικρή λευκή περιοχή στο μέτωπο που δεν εκτείνεται μέχρι την κορυφή της κεφαλής και σφηνοειδές σχήμα κεφαλιού
- γ) Η Νανόχηνα είναι μικρότερη σε μέγεθος από την Ασπρομετωπόχηνα, έχει έναν κίτρινο δαχτυλίδι γύρω από το μάτι, έχει χοντρό, ενιαίο λαιμό, σκούρο τετραγωνισμένο κεφάλι, κοντό ράμφος και η λευκή περιοχή στο μέτωπο εκτείνεται περισσότερο προς τα επάνω από ότι στην Ασπρομετωπόχηνα

**9. Ποια πουλιά επιτρέπεται να ταριχεύονται;**

- α) Τα αρπακτικά
- β) Απαγορεύεται γενικώς
- γ) Μόνο όσα είναι θηρεύσιμα

10. Ποιο από τα παρακάτω πουλιά είναι ο Συκοφάγος;



Απάντηση: Εικόνα .....

11. Επιτρέπεται η θήρα των πουλιών ης φωτογραφίας;



α) Ναι

β) Όχι

12. Η από πρόθεση καταστροφή των φωλιών και των αυγών των πουλιών...

α) Δεν επιτρέπεται

β) Επιτρέπεται για όλα τα είδη

γ) Επιτρέπεται μόνο στα Καταφύγια Άγριας Ζωής (ΚΑΖ)

13. Η αγοροπωλησία νεκρών πτερωτών θηραμάτων..

α) Επιτρέπεται ελεύθερα

β) Δεν επιτρέπεται καθόλου

γ) Επιτρέπεται για όσα θηράματα έχουν θηρευτεί στο εξωτερικό και έχουν εισαχθεί νόμιμα ή θηρεύτηκαν στις Ελεγχόμενες Κυνηγετικές Περιοχές, ή προέρχονται από εκτροφεία.

14. Σε ποια ακτίνα γύρω από τις μεμονωμένες αγροικίες απαγορεύεται το κυνήγι των πτηνών;

α) Σε ακτίνα 150 μέτρων

β) Σε ακτίνα 100 μέτρων

γ) Σε ακτίνα 250 μέτρων

15. Ποια πρόταση είναι λάθος: Ο κυνηγός οφείλει ...

α) Να σέβεται όλα τα όργανα ελέγχου (δασικούς υπάλληλους, θηροφύλακες, αστυνομικούς κλπ.) που εποπτεύουν τους χώρους του κυνηγιού

β) Να πυροβολεί τα θηράματα όταν είναι ιδιαίτερα ευάλωτα

γ) Να σέβεται το μόχθο του αγρότη, τη σοδειά του, την κινητή και ακίνητη περιουσία του

δ) Να μην πυροβολεί τα νεαρά θηράματα και να αποφεύγει κατά κανόνα τα θηλυκά, γιατί αυτά διαιωνίζουν το είδος τους

**16. Πότε επιτρέπεται να κυνηγάμε χρησιμοποιώντας ομοιώματα πάπιας;**

- α) Δεν επιτρέπεται
- β) Επιτρέπεται μόνο στις λίμνες
- γ) Επιτρέπεται μόνο υπό προϋποθέσεις

**17. Πόσες πάπιες, χήνες και φαλαρίδες επιτρέπεται να θηρεύσει ένας κυνηγός σε μία του κυνηγετική εξόρμηση;**

- α) Μέχρι δώδεκα από κάθε είδος
- β) Μέχρι 12 συνολικά απ' όλα τα είδη
- γ) Χωρίς περιορισμό

**18. Σε περίπτωση λαθροθηρίας με χρήση μεταφορικού μέσου (αυτοκίνητο, πλωτό, κ.λπ.) οι οδηγοί ή χειριστές αυτών...**

- α) Θεωρούνται συνυπεύθυνοι
- β) Δεν έχουν καμία ευθύνη
- γ) Εξαρτάται από την περίπτωση

**19. Πότε επιτρέπεται το κυνήγι με σκύλο δίωξης;**

- α) Από 15 Σεπτεμβρίου μέχρι τέλους της κυνηγετικής περιόδου
- β) Από 20 Αυγούστου μέχρι 31 Δεκεμβρίου
- γ) Όταν και όπου επιτρέπεται το κυνήγι του λαγού και του αγριογούρουνου

**20. Σημειώστε το λάθος:**

Εντός των Καταφυγίων Άγριας Ζωής (ΚΑΖ)...

- α) Απαγορεύεται η θήρα κάθε θηράματος και κάθε είδους άγριας πανίδας
- β) Απαγορεύεται η σύλληψη κάθε είδους της άγριας πανίδας για μη ερευνητικούς σκοπούς
- γ) Επιτρέπεται η καταστροφή κάθε είδους ζώνης με φυσική βλάστηση ή καταστροφή των ζωντανών φυτοφρακτών

Ορθές απαντήσεις  από τα 20 ερωτήματα του παρόντος φύλλου.

Η Επιτροπή

1..... 2..... 3.....

## ΦΥΛΛΟ 8

Δασική Υπηρεσία ..... Ημερομηνία ..... 201....

Επώνυμο ..... Όνομα .....

Ον. Πατρός ..... Α.Δ.Τ. ....


**Αναγνωρίστε τα παρακάτω είδη:**

1.



- α) Μελισσοφάγος (*Merops apiaster*)
- β) Συκοφάγος (*Oriolus oriolus*)
- γ) Κιτρινοσουσουράδα (*Motacilla flava*)

2.



- α) Νεροκοτσέλα (*Rallus aquaticus*)
- β) Νερόκοτα (*Gallinula chloropus*)
- γ) Βαρβάρη (*Tadorna tadorna*)

3.



- α) Φλυαρόπαπια ή Καπακλής (*Anas strepera*)
- β) Σουβλόπαπια ή Ψαλίδα (*Anas acuta*)
- γ) Σφυριχτάρι (*Anas penelope*)

4.



- α) Πεδινή πέρδικα (*Perdix perdix*)
- β) Πετροπέρδικα (*Alectoris graeca*)
- γ) Νησιώτικη πέρδικα (*Alectoris chukar*)

5. Ποιο από τα παρακάτω είδη είναι θηρεύσιμο;



**Απάντηση:** Εικόνα .....

**6. Σε ποια από τις παρακάτω ομάδες πουλιών επιτρέπεται το κυνήγι;**



- α) Σε όλα
- β) Στα Β, Γ και Δ
- γ) Στα Α και Ε
- δ) Σε κανένα

**7. Θηρεύσιμο είδος είναι...**

- α) Η Αλεπού (*Vulpes vulpes*)
- β) Ο Λύγκας (*Lynx lynx*)
- γ) Η Αγριόγατα (*Felis silvestris*)
- δ) Το Τσακάλι (*Canis aureus*)

**8. Ποια από τις παρακάτω χήνες φωλιάζει στην Ελλάδα;**

- α) Η Σταχτόχηνα (*Anser anser*)
- β) Η Ασπρομετωπόχηνα (*Anser albifrons*)
- γ) Η Νανόχηνα (*Anser erythropus*)

**9. Ποιο από τα παρακάτω πουλιά δεν ανήκει στην οικογένεια των παπιών;**

- α) Το Σφυριχτάρι (*Anas penelope*)
- β) Η Φαλαρίδα (*Fulica atra*)
- γ) Η Βαρβάρη (*Tadorna tadorna*)

**10. Ποιο από τα παρακάτω είδη μεταναστεύει στην Αφρική;**



**Απάντηση:** Εικόνα .....

**11. Πότε και σε ποιες περιπτώσεις μπορούμε να χρησιμοποιήσουμε ιξόβεργες για τη σύλληψη πουλιών;**

- α) Δεν επιτρέπεται
- β) Μόνο το φθινόπωρο
- γ) Μόνο για τη σύλληψη ωδικών πουλιών

**12. Πότε επιτρέπεται η χρησιμοποίηση ομοιωμάτων πάπιας;**

- α) Επιτρέπεται μόνο στις λίμνες
- β) Δεν επιτρέπεται
- γ) Επιτρέπεται μόνο υπό προϋποθέσεις

**13. Με το ίδιο όπλο πότε τα σκάγια έχουν μεγαλύτερη διασπορά;**

- α) Ανάλογα με την πυρίτιδα και ανεξαρτήτως μεγέθους
- β) Εάν είναι χοντρά
- γ) Εάν είναι ψιλά

**14. Σε πόσο χρόνο είναι δυνατόν να χορηγηθεί άδεια κυνηγίου μετά από καταδίκη για παράνομο κυνήγι;**

- α) Μετά από 2 χρόνια
- β) Μετά από 2 χρόνια όταν το αδίκημα είναι παισίμα και μετά από 5 χρόνια όταν είναι πλημμέλημα
- γ) Μετά από 5 χρόνια

**15. Πότε επιτρέπεται η αγοροπωλησία του λαγού;**

- α) Απαγορεύεται εντελώς
- β) Όταν επιτρέπεται το κυνήγι του
- γ) Όταν προέρχεται από τεχνητή εκτροφή, ελεγχόμενες Κυνηγετικές Περιοχές ή το εξωτερικό και εφόσον έχει εισαχθεί νόμιμα

**16. Επιτρέπεται η θήρα των πουλιών της φωτογραφίας;**
 α) Ναι

 β) Όχι
**17. Πότε επιτρέπεται η εκγύμναση σκύλων;**

- α) Την κυνηγετική περίοδο
- β) Όλο το χρόνο
- γ) Εκτός κυνηγετικής περιόδου

**18. Εάν σκοτώσετε ή βρείτε νεκρό ένα πουλί δακτυλιωμένο τι οφείλετε να κάνετε;**

- α) Να κρατήσετε το δαχτυλίδι
- β) Να μην κάνετε τίποτα
- γ) Να παραδώσετε το δαχτυλίδι στον Κυνηγετικό Σύλλογο ή τη Δασική Αρχή

**19. Τι κάνει λάθος ο κυνηγός σ' αυτή την φωτογραφία:**

- α) Σκοπεύει πολύ χαμηλά
- β) Κυνηγάει με όπλο που φέρει διόπτρα
- γ) Κρατάει με λάθος τρόπο το όπλο.

**20. Επιτρέπεται η εισαγωγή και απελευθέρωση ξενικών ειδών πουλιών;**

- α) Απαγορεύεται
- β) Μόνο με ειδική άδεια από το αρμόδιο Υπουργείο
- γ) Μόνο από τους κυνηγετικούς συλλόγους

Ορθές απαντήσεις  από τα 20 ερωτήματα του παρόντος φύλλου.

Η Επιτροπή

1..... 2..... 3.....



## ΦΥΛΛΟ 9

Δασική Υπηρεσία ..... Ημερομηνία ..... 201....

Επώνυμο ..... Όνομα .....

Ον. Πατρός ..... Α.Δ.Τ. ....

**Αναγνωρίστε τα παρακάτω είδη:**

1.



- α) Μελισσοφάγος (*Merops apiaster*)
- β) Αλκούνη (*Alcedo atthis*)
- γ) Συκοφάγος (*Oriolus oriolus*)

2.



- α) Λευκοτσικνιάς (*Ardea alba*)
- β) Ροδοπελεκάνος (*Pelecanus onocrotalus*)
- γ) Κύκνος (*Cygnus olor*)

3.



- α) Ορτύκι (*Coturnix coturnix*)
- β) Πεδινή Πέρδικα (*Perdix perdix*)
- γ) Ορτυκομάνα (*Crex crex*)

4.




- α) Φασιανός (*Phasianus colchicus*)
- β) Νερόκοτα (*Gallinula chloropus*)
- γ) Μπεκάτσα (*Scolopax rusticola*)

5. Ποιο από τα παρακάτω είδη δεν είναι θηρεύσιμο;



**Απάντηση:** Εικόνα .....

6. Σε ποια από τις παρακάτω ομάδες πουλιών επιτρέπεται το κυνήγι;



Απάντηση: Εικόνα .....

7. Ποιο από τα παρακάτω είδη δεν είναι αρπακτικό;



Απάντηση: Εικόνα .....

8. Ποιο από τα παρακάτω πουλιά δεν ανήκει στην οικογένεια των παπιών;

- α) Το Σφυριχτάρι (*Anas penelope*)
- β) Η Φαλαρίδα (*Fulica atra*)
- γ) Η Βαρβάρια (*Tadorna tadorna*)

9. Ποιο είδος δεν διαχειμάζει στην Ελλάδα;

- α) Η Μπεκάτσα (*Scolopax rusticola*)
- β) Το Κιρκίρι (*Anas crecca*)
- γ) Το Τρυγόνι (*Streptopelia turtur*)

10. Πόσες Σιταρήθρες επιτρέπεται να θηρεύσει ένας κυνηγός σε μια κυνηγετική του εξόρμηση;

- α) Δέκα (10)
- β) Δώδεκα (12)
- γ) Χωρίς περιορισμό

**11. Το κυνήγι στους υγροτόπους από πλωτά μέσα χωρίς μηχανή:**

- α) Απαγορεύεται  
 β) Επιτρέπεται  
 γ) Επιτρέπεται αναλόγως των συνθηκών

**12. Οι κυνηγοί της παρακάτω εικόνας γεμίζουν τα τουφέκια τους για να συνκυνηγήσουν. Το πράττουν με ασφάλεια;**



- α) Ναι  
 β) Όχι

**13. Επιτρέπεται το κυνήγι της Μπεκάτσας στο καρτέρι;**

- α) Το πρωί και το βράδυ  
 β) Μόνο το πρωί  
 γ) Μόνο το βράδυ  
 δ) Απαγορεύεται

**14. Το κυνήγι χωρίς τη συγκατάθεση του ιδιοκτήτη, νομέα ή ενοικιαστή σε καλλιεργημένες εκτάσεις και οπωρώνες:**

- α) Απαγορεύεται  
 β) Επιτρέπεται  
 γ) Απαγορεύεται όταν η άσκησή του μπορεί να προκαλέσει βλάβη στην καλλιέργεια

**15. Σε πόσο χρόνο είναι δυνατόν να χορηγηθεί άδεια κυνηγίου μετά από καταδίκη για παράνομο κυνήγι;**

- α) Μετά από 2 χρόνια  
 β) Μετά από 2 χρόνια όταν το αδίκημα είναι πταίσμα και μετά από 5 χρόνια όταν είναι πλημμέλημα  
 γ) Μετά από 5 χρόνια

**16. Ποια από τις παρακάτω προτάσεις είναι σωστή;**

- α) Οι αγέλες των αγριογούρουνων έχουν μητριαρχική δομή για αυτό πρέπει να προτιμούμε να πυροβολούμε μόνο τα μεγάλα θηλυκά
- β) Οι αγέλες των αγριογούρουνων έχουν μητριαρχική δομή για αυτό πρέπει να προτιμούμε να πυροβολούμε μόνο τα έφηβα αγριογούρουνα ώστε να παραμείνουν οι ενήλικες θηλυκές για αναπαραγωγή
- γ) Οι αγέλες των αγριογούρουνων έχουν πατριαρχική δομή για αυτό όταν κυνηγούμε ένα κοπάδι επιλέγουμε να θηρεύουμε τα μεγάλα αρσενικά

**17. Το γιλέκο που φορούν οι κυνηγοί κατά τη διάρκεια του κυνηγιού του λαγού, του αγριογούρουνου, της μεκάτσας και του ορτυκιού πρέπει:**

- α) Να είναι φωσφορίζον και ορατό από κάθε οπτική πλευρά
- β) Να έχει μια πορτοκαλί φωσφορίζουσα λωρίδα περιμετρικά του σώματός τους
- γ) Να έχει φωσφορίζον χρώμα μόνο στο πίσω μέρος του σώματός τους

**18. Πόσες πάπιες, χήνες και φαλαρίδες επιτρέπεται να θηρεύσει ένας κυνηγός σε μια του κυνηγετική εξόρμηση;**

- α) Μέχρι δώδεκα συνολικά απ' όλα τα είδη
- β) Μέχρι δώδεκα από κάθε είδος
- γ) Απεριόριστα

**19. Σε πόση απόσταση από την ακτή, απαγορεύεται το κυνήγι με μηχανοκίνητα πλωτά μέσα;**

- α) Σε απόσταση μέχρι 100 μέτρων
- β) Σε απόσταση μέχρι 200 μέτρων
- γ) Σε απόσταση μέχρι 300 μέτρων

**20. Το κυνηγετικό μας όπλο στο αυτοκίνητο μεταφέρεται:**

- α) Συναρμολογημένο
- β) Λυμένο και μέσα σε θήκη
- γ) Δεν παίζει ρόλο εφόσον βρίσκεται στο αυτοκίνητο

Ορθές απαντήσεις  από τα 20 ερωτήματα του παρόντος φύλλου.

Η Επιτροπή

1..... 2..... 3.....

## ΦΥΛΛΟ 10

Δασική Υπηρεσία ..... Ημερομηνία ..... 201...

Επώνυμο ..... Όνομα .....

Ον. Πατρός ..... Α.Δ.Τ. ....

**Αναγνωρίστε τα παρακάτω είδη:**

1.



- α) Πρασινοκέφαλη (*Anas platyrhynchos*)  
 β) Σφουριχτάρι (*Anas penelope*)  
 γ) Σουβλόπαπια ή Ψαλίδα (*Anas acuta*)

2.



- α) Κούκος (*Cuculus canorus*)  
 β) Τρυγόνι (*Streptopelia turtur*)  
 γ) Δεκαοχτούρα (*Streptopelia decaocto*)

3.



- α) Κίσσα (*Garrulus glandarius*)  
 β) Καλημάνα (*Vanellus vanellus*)  
 γ) Καρδερίνα (*Carduelis carduelis*)

4.



- α) Μπεκάτσα (*Scolopax rusticola falcinellus*)  
 β) Μπεκατσίνι (*Gallinago gallinago*)  
 γ) Λιμόζα (*Limosa limosa*)

5. Ποιο από τα παρακάτω είδη είναι η Φάσα;



B)



Γ)



**Απάντηση:** Εικόνα .....

6. Ποια από τα παρακάτω είδη δεν είναι θηρεύσιμα;



Α)



Β)



Γ)



Δ)

 α) Τα Α και Β

 β) Τα Γ και Δ

 γ) Όλα

 δ) Κανένα


7. Ποιο από τα παρακάτω είδη είναι θηρεύσιμο;



Α)



Β)



Γ)

Απάντηση: Εικόνα .....

8.

Ποιο από τα παρακάτω είδη είναι θηρεύσιμο;

 α) Το Πετροκούναβο (*Martes foina*)


 β) Η Νυφίτσα (*Mustela nivalis*)

 γ) Το Κουνάβι (*Martes martes*)

 δ) Ο Σκίουρος (*Sciurus vulgaris*)

**9. Ποια από τις παρακάτω προτάσεις είναι λάθος;**

- α) Η αρκούδα είναι είδος παμφάγο, μονογαμικό, και προστατευόμενο
- β) Όταν οι χειμώνες είναι θερμοί, η αρκούδα δεν πέφτει σε χειμέρια νάρκη
- γ) Η αρκούδα γεννάει 2-4 μικρά, τα οποία φροντίζει μέχρι την ηλικία των 18-24 μηνών και επιτίθεται όταν νιώθει να απειλείται αυτή και τα μικρά της
- δ) Η αρκούδα ζει σε μεγάλα και πυκνά δάση πλατυφύλλων ειδών, είναι είδος σαρκοφάγο και θηρεύεται

**10. Ποιο από τα παρακάτω είδη είναι χειμερινός επισκέπτης;**

Απάντηση: Εικόνα .....

**11. Σε ποιες περιπτώσεις επιτρέπεται η οπλοφορία με κυνηγετικά όπλα;**

- α) Η οπλοφορία με κυνηγετικά όπλα απαγορεύεται, εκτός των περιπτώσεων της χρήσης για άσκηση θήρας ή σκοποβολής και της μετάβασης και επιστροφής στους χώρους αυτούς.
- β) Η οπλοφορία με κυνηγετικά όπλα απαγορεύεται.
- γ) Η οπλοφορία με κυνηγετικά όπλα απαγορεύεται, εκτός των περιπτώσεων της χρήσης για άσκηση θήρας και της μετάβασης και επιστροφής στον κυνηγότοπο.

**12. Από πόση απόσταση μπορείτε να πυροβολήσετε πουλί που κάθεται επάνω σε ηλεκτρικά ή άλλα καλώδια;**

- α) Από απόσταση 60 μέτρων
- β) Δεν επιτρέπεται
- γ) Από απόσταση 40 μέτρων

**13. Το κυνήγι με τη βοήθεια συσκευών που αναπαράγουν φωνές θηραμάτων:**

- α) Απαγορεύεται
- β) Επιτρέπεται
- γ) Επιτρέπεται κατόπιν αδείας

**14. Για πόσο χρονικό διάστημα ισχύουν οι βεβαιώσεις που εκδίδονται από τις Αστυνομικές Αρχές, για την πλήρωση των προϋποθέσεων χορήγησης άδειας κατοχής κυνηγετικού όπλου;**

- α) Για δέκα χρόνια
- β) Απεριόριστα
- γ) Για τρία χρόνια

**15. Ποια από τις παρακάτω προτάσεις είναι σωστή;**

- α) Οι αγέλες των αγριογούρουνων έχουν μητριαρχική δομή για αυτό πρέπει να προτιμούμε να πυροβολούμε μόνο τα μεγάλα θηλυκά.
- β) Οι αγέλες των αγριογούρουνων έχουν μητριαρχική δομή για αυτό πρέπει να προτιμούμε να πυροβολούμε μόνο τα έφηβα αγριογούρουνα ώστε να παραμείνουν οι ενήλικες θηλυκές για αναπαραγωγή.
- γ) Οι αγέλες των αγριογούρουνων έχουν πατριαρχική δομή για αυτό όταν κυνηγούμε ένα κοπάδι επιλέγουμε να θηρεύουμε τα μεγάλα αρσενικά.

**16. Πότε και σε ποιες περιπτώσεις μπορούμε να χρησιμοποιήσουμε ιξούς (παγίδες) για τη σύλληψη πουλιών;**

- α) Δεν επιτρέπεται
- β) Μόνο το φθινόπωρο
- γ) Μόνο για τη σύλληψη ωδικών πουλιών

**17. Που πρέπει να είναι στραμμένη η κάνη του όπλου μας όταν βαδίζουμε στον κυνηγότοπο;**

- α) Προς τον ουρανό ή προς τη γη
- β) Προς τη γη
- γ) Είναι αδιάφορο

**18. Σε ποια ακτίνα γύρω από τις μεμονωμένες αγροικίες απαγορεύεται το κυνήγι των πτηνών;**

- α) Σε ακτίνα 150 μέτρων
- β) Σε ακτίνα 100 μέτρων
- γ) Σε ακτίνα 250 μέτρων

**19. Πότε επιτρέπεται το κυνήγι των Ερωδιών και των Κορμοράνων**

- α) Καθ' όλη τη διάρκεια της κυνηγετικής περιόδου
- β) Ανάλογα με τις καιρικές συνθήκες και τις τοπικές απαγορεύσεις
- γ) Απαγορεύεται

**20. Πόσες είναι οι κυνηγετικές περιφέρειες της Ελλάδας;**

- α) Τρεις                       β) Επτά                       γ) Έξι

Ορθές απαντήσεις  από τα 20 ερωτήματα του παρόντος φύλλου.

Η Επιτροπή

1..... 2..... 3.....